

שמות פגועה לניגה ז' _____ פג האלמיו:

ניגה: _____

שאלה 1

לפניכם סדרה של מספרים בקפיצות שוות.

השלימו את 3 המספרים הבאים בסדרה.

552 , 652 , 752 , _____ , _____ , _____

שאלה 2

$$4 \times 5 = \underline{\quad}$$

השלימו:

$$36 : \underline{\quad} = 12$$

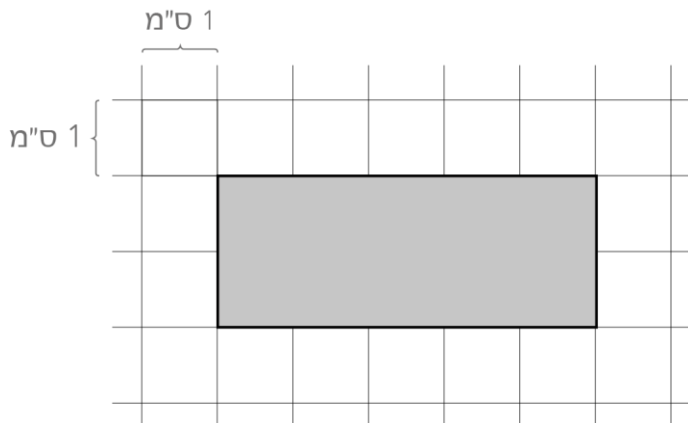
שאלה 3

ערן קנה 5 חבילות של מדבקות. בכל חבילה היו 20 מדבקות.

כמה מדבקות בסך-הכל קנה ערן?

תשובה: _____ מדבקות

שאלה 4



מה היקף המלבן שלפניכם?

תשובה: _____ ס"מ

שאלה 5

כתבו שני שברים השווים ל- $\frac{1}{2}$

שאלה 6

פתרו על פי סדר פעולות החשבון:

א. $(8 - 2) : (4 - 1)$

ב. $100 - 60 : 5 =$

ג. $40 \times 20 =$

שאלה 7

מחירים של 4 עפרונות ו- 2 עטים הוא 10 ש"ח.
מה מחירים של 8 עפרונות ו- 4 עטים?

תשובה: _____ ש"ח

שאלה 8

חמישה ילדים זרקו כדורים לסל.

בטבלה שלפניכם כתוב מספר הקליעות לסל של כל ילד.

שם הילד	מספר הקליעות
אביב	6
גל	5
יהלי	4
יובל	0
נועם	0

א. מי הם הילדים שקלעו יותר מיהלי? _____

ב. מה מספר הקליעות הממוצע לילד?

תשובה: _____

שאלה 9

סמנו את המספר שמונה מאות אלף חמש מאות עשרים ושמונה.

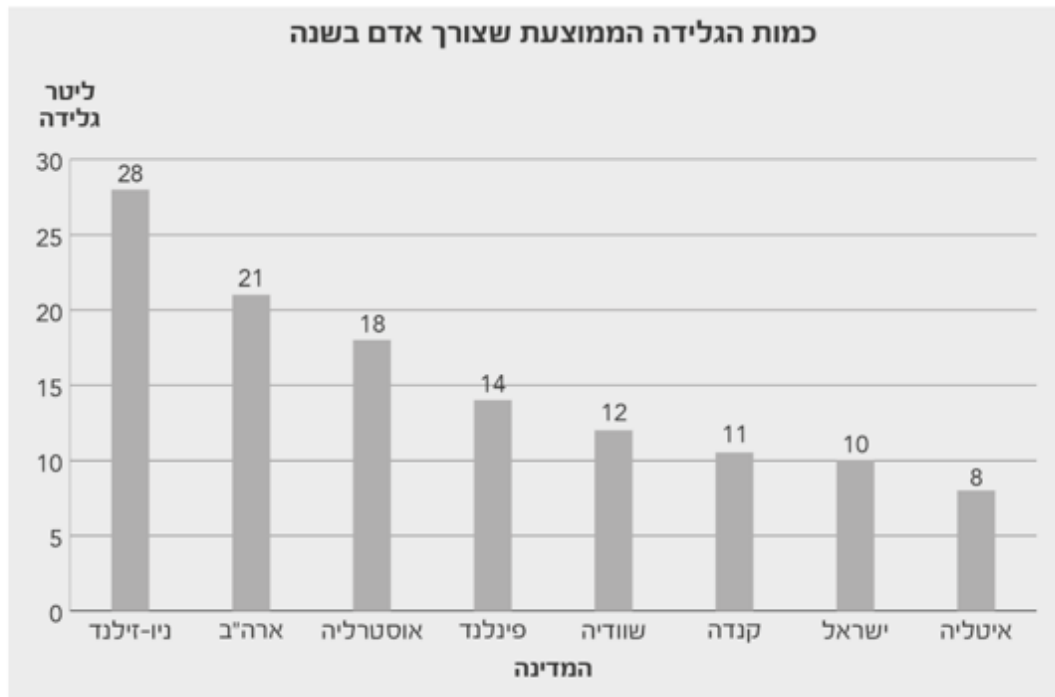
800,520,008 ₁

800,500,028 ₂

852,008 ₃

800,528 ₄

לקראת יום הגלידה הבינלאומי בדקו כמה ליטר גלידה במוצע צורך אדם במשך שנה, במדינות שונות. בדיאגרמה שלפניכם מוצגים הנתונים.



א. באיזו מדינה צריכת הגלידה הממוצעת לאדם היא הגדולה ביותר?

תשובה: _____

ב. באילו שתי מדינות צריכת הגלידה הממוצעת לאדם גדולה בערך פי 2 מצריכת

הגלידה הממוצעת לאדם בישראל?

תשובה: _____ , _____

שאלה 11

○ ○ ○ ○ ○ ○

צבעו $\frac{1}{3}$ מהעיגולים שבציור:

○ ○ ○ ○ ○ ○

שאלה 12

א. השלימו: בכל שעה יש _____ דקות.

ב. גל הלך ברגל במהירות קבועה במשך שעה. הוא עבר מרחק של 4 ק"מ בכל 30 דקות.

מה המרחק שעבר גל בשעה?

תשובה: _____ ק"מ

שאלה 13

הפרש השעות בין ישראל ליפן הוא 7 שעות.

כאשר בישראל השעה היא 12:00 בצהריים, השעה ביפן היא 19:00 בערב של אותו יום.

א. מה השעה **ביפן** כאשר בישראל השעה היא 11:00 לפני הצהריים?

תשובה:

ב. מה השעה **בישראל** כאשר ביפן השעה היא 14:00 בצהריים?

סמנו את השעון המתאים.



4



3



2



1

לחנות של ציוד לטיולים הגיע ארגז עם 40 תרמילים.
 ביום ראשון נמכרו $\frac{1}{4}$ מהתרמילים שהיו בארגז המלא.

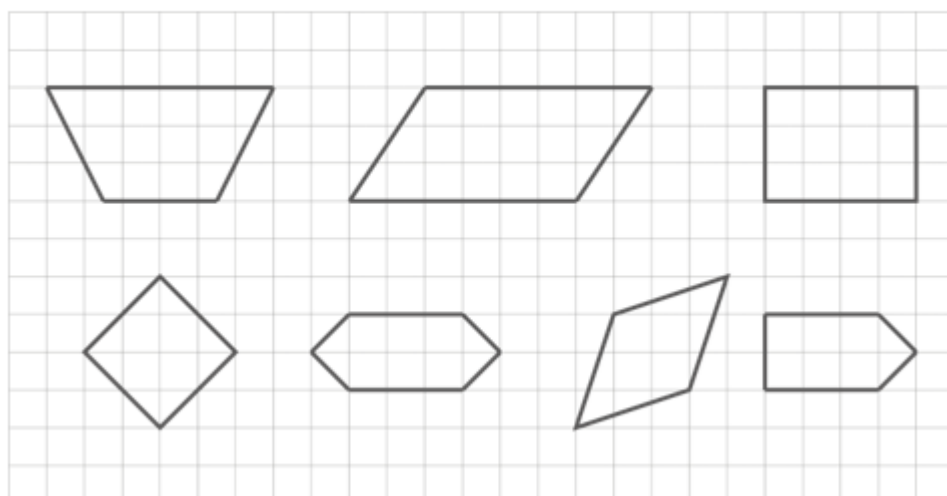
א. כמה תרמילים נמכרו ביום ראשון?

תרגיל: _____

תשובה: _____

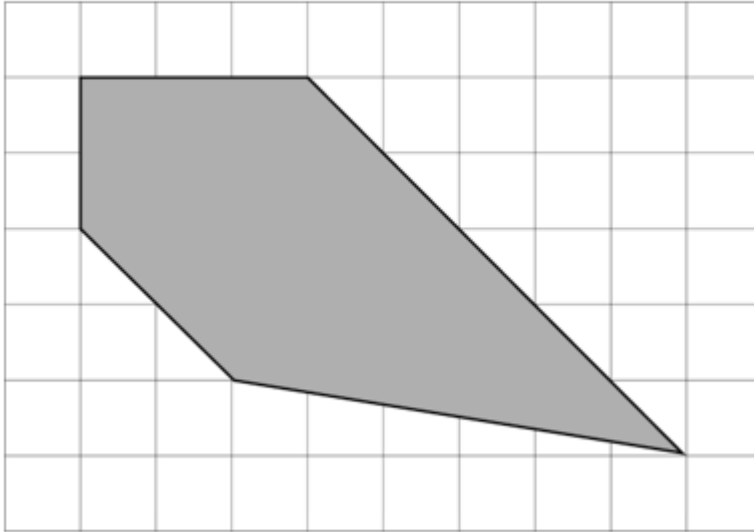
ב. כמה תרמילים נשארו לאחר המכירה? _____.

לפניכם סרטוטים של מצולעים. הקיפו כל מצולע שהוא מקבילית.



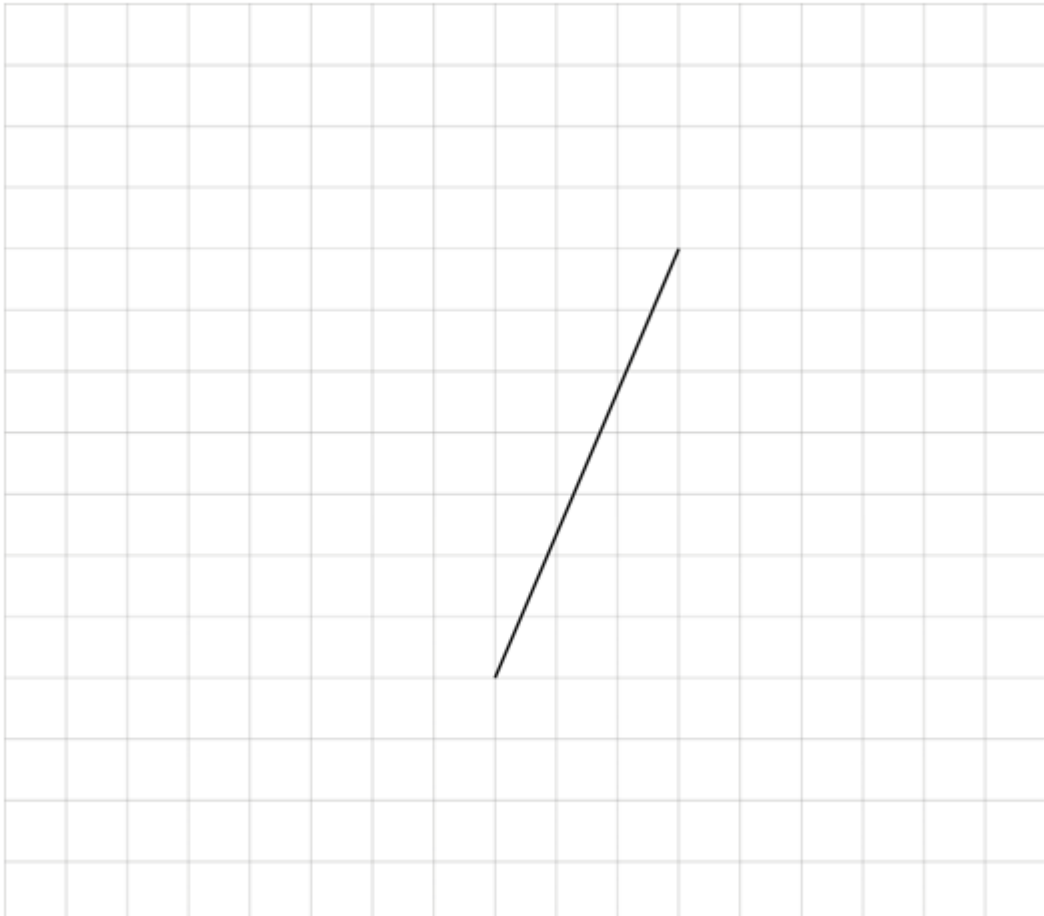
שאלה 16

במצולע שלפניכם יש שתי צלעות מקבילות זו לזו. סמנו אותן.



שאלה 17

סרטו **משולש קהה-זווית** שהקטע הנתון הוא אחת הצלעות שלו.



לפניכם שלט ב"משתלת גן":



א. יעל קנתה 2 עציצי נרקיס. כמה שילמה יעל? תשובה: _____.

ב. דינה קנתה במשתלה כמה עציצים, כולם מאותו סוג, ושילמה בדיוק 120 ש"ח.

כמה עציצים קנתה דינה ומאיזה סוג העציצים?

תשובה: דינה קנתה _____ עציצים מסוג _____.

ג. ירון קנה עציצים, כולם מאותו סוג.

אפרת קנתה עציצים, כולם מאותו סוג.

העציצים שקנתה אפרת היו מסוג שונה מזה שקנה ירון.

שניהם שילמו אותו סכום כסף.

כתבו אפשרות מתאימה לסוג העציצים ולמספר העציצים שקנה כל אחד מהם,

ולסכום הכסף ששילם כל אחד מהם.

תשובה: ירון קנה _____ עציצים מסוג _____.

אפרת קנתה _____ עציצים מסוג _____.

כל אחד מהם שילם _____ ש"ח.



א. יעל קנתה 2 עציצי נרקיס. כמה שילמה יעל? תשובה: _____.

ב. דינה קנתה במשתלה כמה עציצים, כולם מאותו סוג, ושילמה בדיוק 120 ש"ח.

כמה עציצים קנתה דינה ומאיזה סוג העציצים?

תשובה: דינה קנתה _____ עציצים מסוג _____.

ג. ירון קנה עציצים, כולם מאותו סוג.

אפרת קנתה עציצים, כולם מאותו סוג.

העציצים שקנתה אפרת היו מסוג שונה מזה שקנה ירון.

שניהם שילמו אותו סכום כסף.

כתבו אפשרות מתאימה לסוג העציצים ולמספר העציצים שקנה כל אחד מהם,

ולסכום הכסף ששילם כל אחד מהם.

תשובה: ירון קנה _____ עציצים מסוג _____.
אפרת קנתה _____ עציצים מסוג _____.
כל אחד מהם שילם _____ ש"ח.

