

# חידודים




ליִרְדָן הִיוּ מִסְפָּר קִלְפִים.

הוא נתן לעומרי את הקלפים הקטנים מ- 32

וגדולים מ- 68. אילו קלפים ירדן השאיר אצלו?

17	36	39	93
21	45	88	60
69	29	75	3



# חידודים




שי ודור שחקו יחד בקלפים.

שי נתנה לדור את הקלפים הקטנים מ- 24

וגדולים מ- 57. אילו קלפים שי השאירה אצלה?

12	43	39	83
23	61	77	14
92	34	52	3




# חידודים



השלימו את רבוע הקסם כך שסכום כל שורה או  
טור יהיה בדיוק 16.

	7	
5		6
8		4




# חידודים



השלימו את רבוע הקסם כך שסכום כל שורה או  
טור יהיה בדיוק 9.

	4	
	2	6
4		2



## חידודים



תשובה מלולית:  
לדניאל נותרו 3 מדבקות.


חשבו וכתבו מהו הספור החשובוני המתאים?

---

---

---

---




## חידודים



השלימו את רבוע הקסם כך שסכום כל שורה או  
טור יהיה בדיוק 12.

5	1	
6		4
		2



## חידודים



תשובה מלולית:

הקבוצה קבלה 14 נקדות בסך הכל.


חשבו וכתבו מהו הספור החשבוני המתאים?

---

---

---

---



## חידודים



תשובה מלולית:

לדנה נשארו 9 פרחים.


חשבו וכתבו מהו הספור החשבוני המתאים?

---

---

---

---



# חידודים



6

כתבו 3 תרגילים שונים לתוצאה:

1


---

2

---

3

---



# חידודים



17

כתבו 3 תרגילים שונים לתוצאה:

1


---

2

---

3

---



# חידודים



8

כתבו 3 תרגילים שונים לתוצאה:

1


---

2

---

3

---



# חידודים



14

כתבו 3 תרגילים שונים לתוצאה:

1


---

2

---

3

---



# חידודים



9

כתבו 3 תרגילים שונים לתוצאה:

1


---

2

---

3

---



# חידודים



11

כתבו 3 תרגילים שונים לתוצאה:

1


---

2

---

3


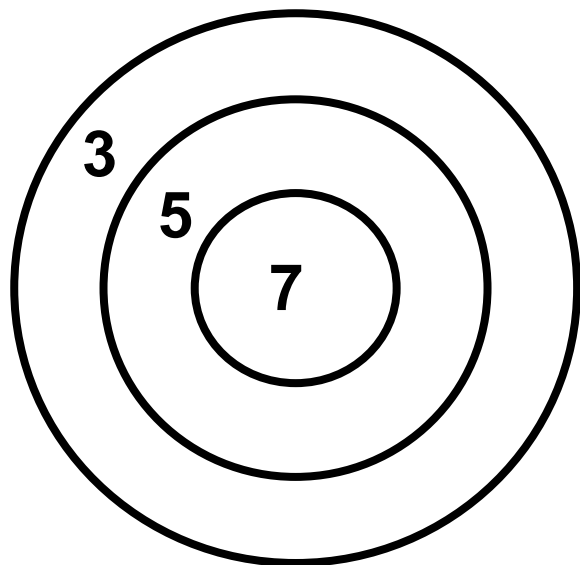
---



## חידודים



אילה שחקה בקליעה למטרה, היא קלעה למטרה יותר מפעם אחת. מספר הנקודות של אילה בסוף המשחק היה 15 נקודות. חשבו כיצד אילה הגיעה לתוצאה זו?



## חידודים



שחר שחק בקליעה למטרה, הוא קלע למטרה יותר מפעם אחת. מספר הנקודות של שחר בסוף המשחק היה 9 נקודות. חשבו כיצד שחר הגיע לתוצאה זו?

