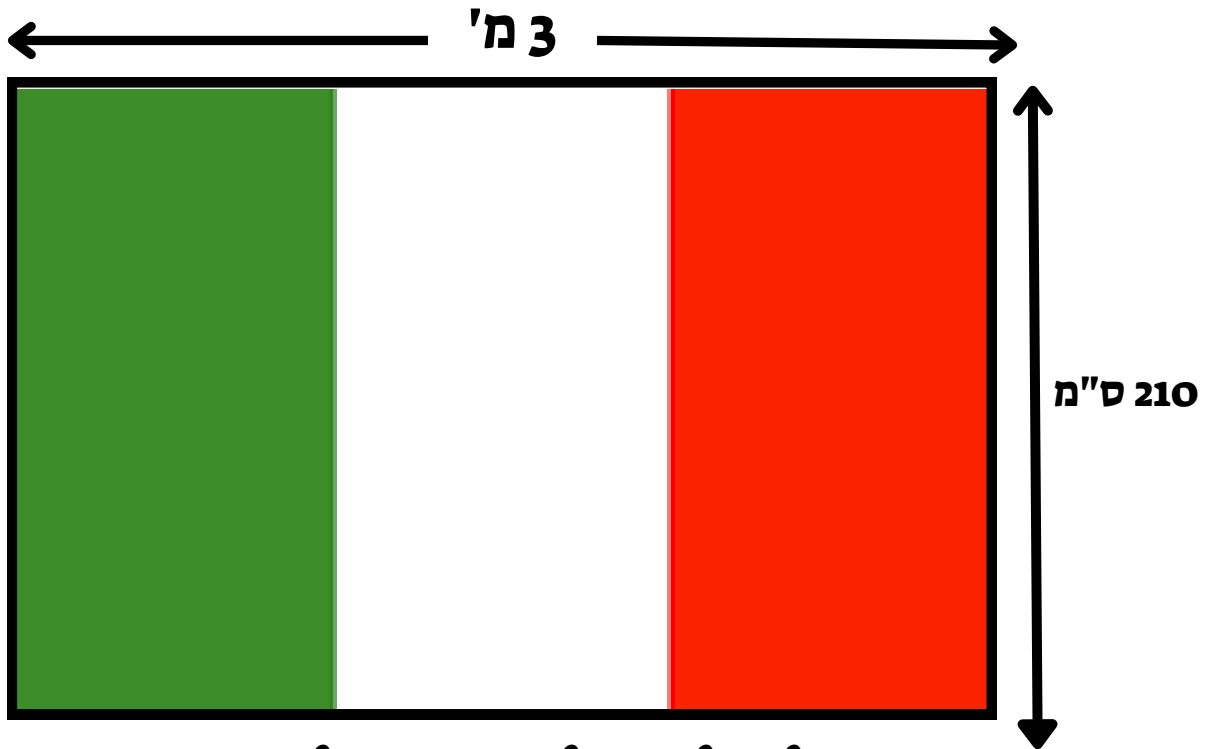
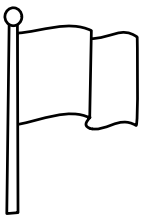
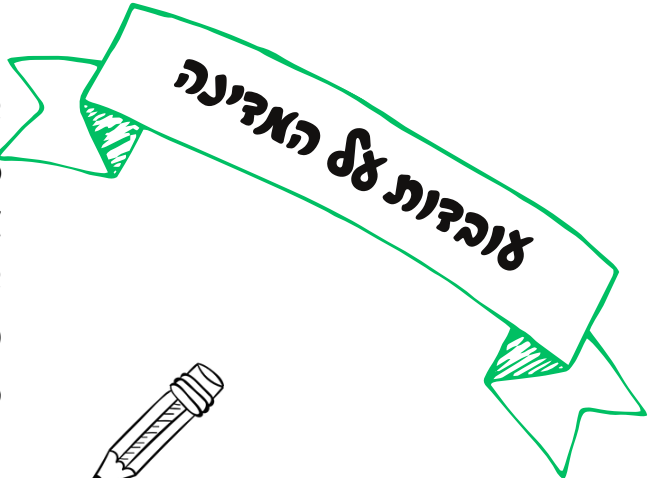


# חישוב שטחים והיקפים



שיאוף לב: שלושת האלמנטים שווים זה לזה



- \_\_\_\_\_ שם האדינה:
- \_\_\_\_\_ עיר בירה:
- \_\_\_\_\_ מטבע:
- \_\_\_\_\_ שפה מדוברת:
- \_\_\_\_\_ באיזו יבשת היא נמצאת:
- \_\_\_\_\_ נוסדה:



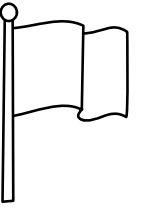
חשבו את כמות הבד שצריך על מנת לתפור את הצורות:

- הלבנה:
- האדומה:
- הירוקה:




חשבו, על פי, האידות בציר את היקף הצורות:

- הלבנה:
- האדומה:
- הירוקה:



# חישוב שטחים והיקפים



שיאו ל: הפסיק שווה  
צה לצה ברומבק

**עובדות על האדינה**


- \_\_\_\_\_ שם האדינה:
- \_\_\_\_\_ עיר בירה:
- \_\_\_\_\_ מטבע:
- \_\_\_\_\_ שפה מדוברת:
- \_\_\_\_\_ באיזו יבשת היא נמצאת:
- \_\_\_\_\_ נוסדה:



חשבו את כמות הבד שצריך על אנת לתפור את הצורות:  
הלכנה:  
הכחולה:

חשבו , על פי, האידות בציר את היקף הצורות:  
הלכנה:  
הכחולה:






# חישוב שטחים והיקפים

2.70 מטר

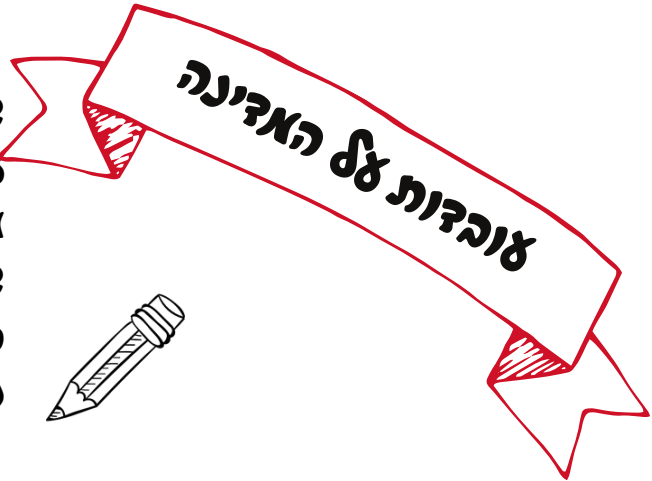
30 ס"מ

30 ס"מ

60 ס"מ



שימואל  
למידה זה שם המשחק



- שם האדווה: \_\_\_\_\_
- עיר בירה: \_\_\_\_\_
- מטבע: \_\_\_\_\_
- שפה מדוברת: \_\_\_\_\_
- באיזו יבשת היא נמצאת: \_\_\_\_\_
- נוסדה: \_\_\_\_\_



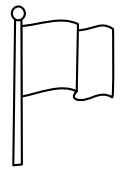
חשבו את כמות הבד שצריך על אנת לתפור את הצורות:

- הלבנה:
- הכחולה:
- האדומה:

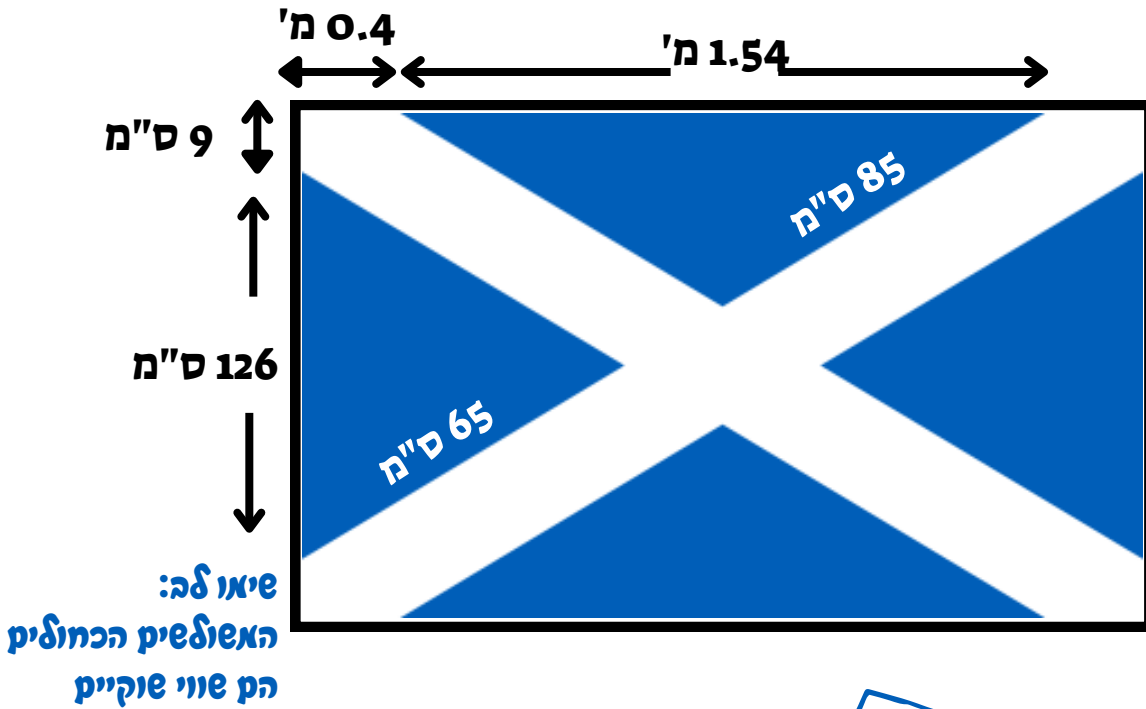
חשבו , על פי, האידות בציר את היקף הצורות:

- הלבנה:
- הכחולה:
- האדומה:





# חישוב שטחים והיקפים



0.4 מ'      1.54 מ'

9 ס"מ

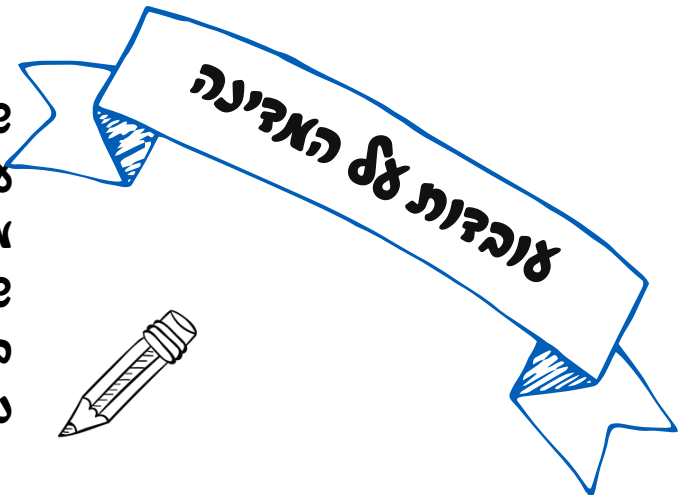
126 ס"מ

שיאו ל:  
האולטימ הכחוליק  
הק שווי שוקייק

85 ס"מ

65 ס"מ

שיאו ל  
אחידות הידה



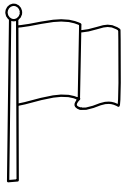
- שם האדינה: \_\_\_\_\_
- עיר בירה: \_\_\_\_\_
- מטבע: \_\_\_\_\_
- שפה מדוברת: \_\_\_\_\_
- באיזו יבשת היא נמצאת: \_\_\_\_\_
- נוסדה: \_\_\_\_\_



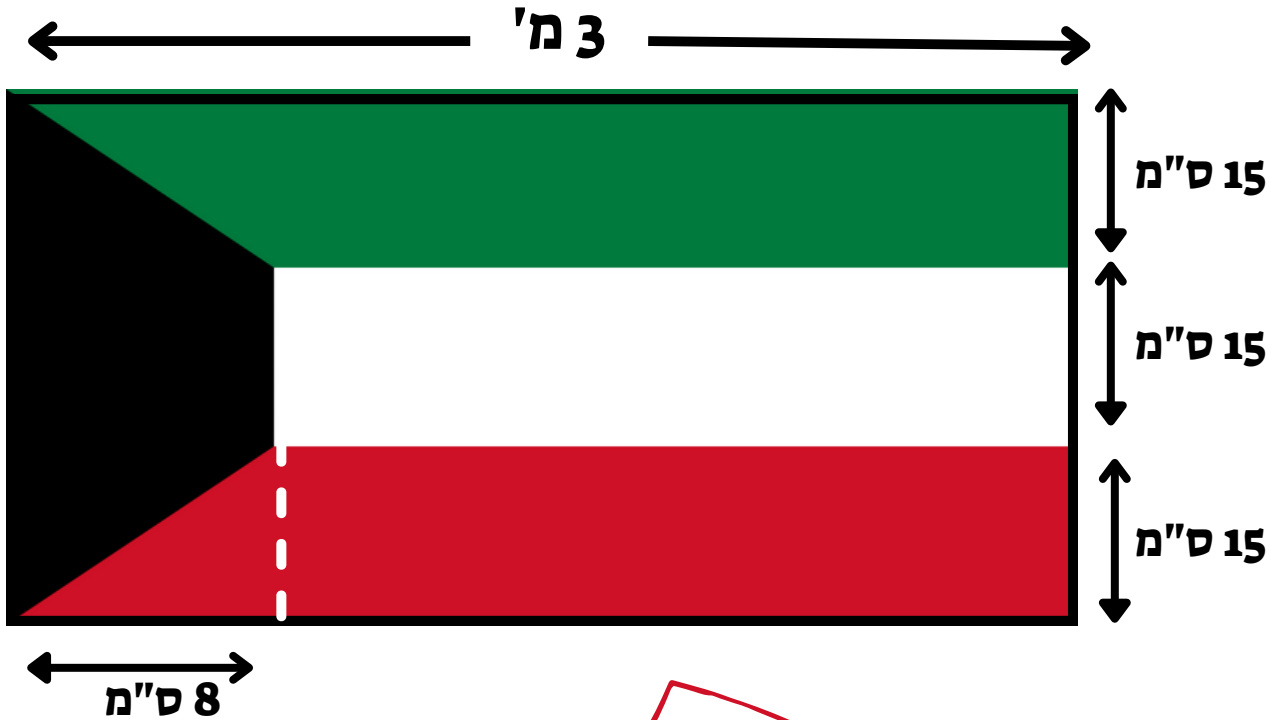
חשבו את כמות הבד שצריך על מנת לתפור את הצורות:  
הלבנה:  
הכחולה:

חשבו, על פי האידות בציר את היקף הצורות:  
הלבנה:  
הכחולה:





# חישוב שטחים והיקפים



שיחולג  
לחישוב ארבעה



- \_\_\_\_\_ שם האדינה:
- \_\_\_\_\_ עיר הירה:
- \_\_\_\_\_ מטבע:
- \_\_\_\_\_ שפה מדוברת:
- \_\_\_\_\_ באיזו יבשת היא נמצאת:
- \_\_\_\_\_ נוסדה:



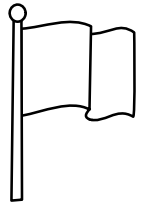
חשבו את כמות הבד שצריך על אנת לתפור את הצורה:  
הירוקה: \_\_\_\_\_  
הלבנה: \_\_\_\_\_

השמורה: \_\_\_\_\_  
אדומה: \_\_\_\_\_

חשבו, על פי, האידות בציר את היקף הצורה:  
הירוקה: \_\_\_\_\_  
הלבנה: \_\_\_\_\_

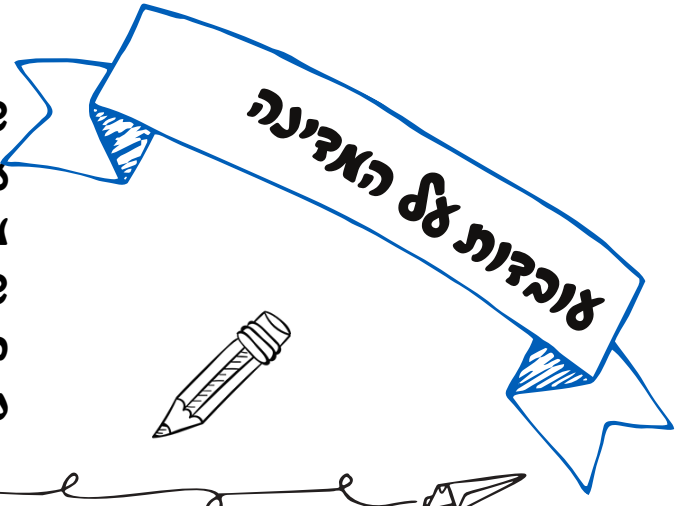
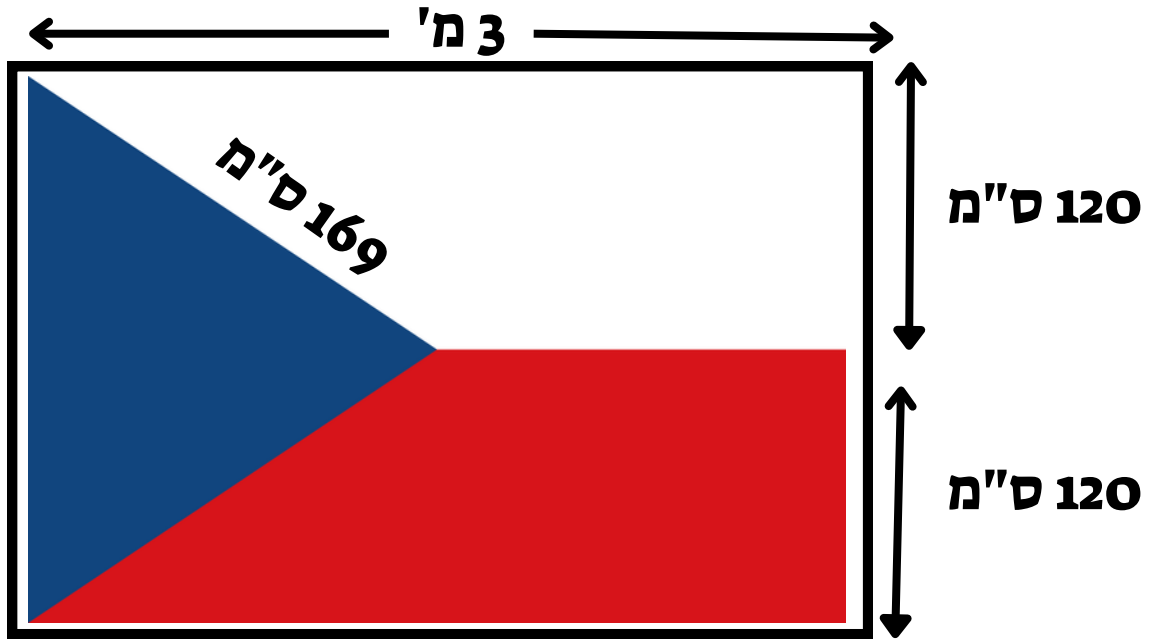
השמורה: \_\_\_\_\_  
האדומה: \_\_\_\_\_





# חישוב שטחים והיקפים

שימואל  
אחידות איזה



- \_\_\_\_\_ שם האדינה:
- \_\_\_\_\_ עיר בירה:
- \_\_\_\_\_ מטבע:
- \_\_\_\_\_ שפה מדוברת:
- \_\_\_\_\_ באיזו יחסת היא נמצאת:
- \_\_\_\_\_ נוסדה:

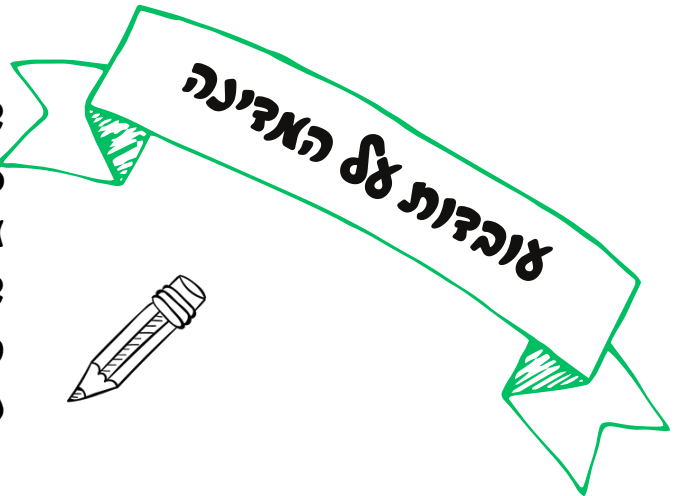
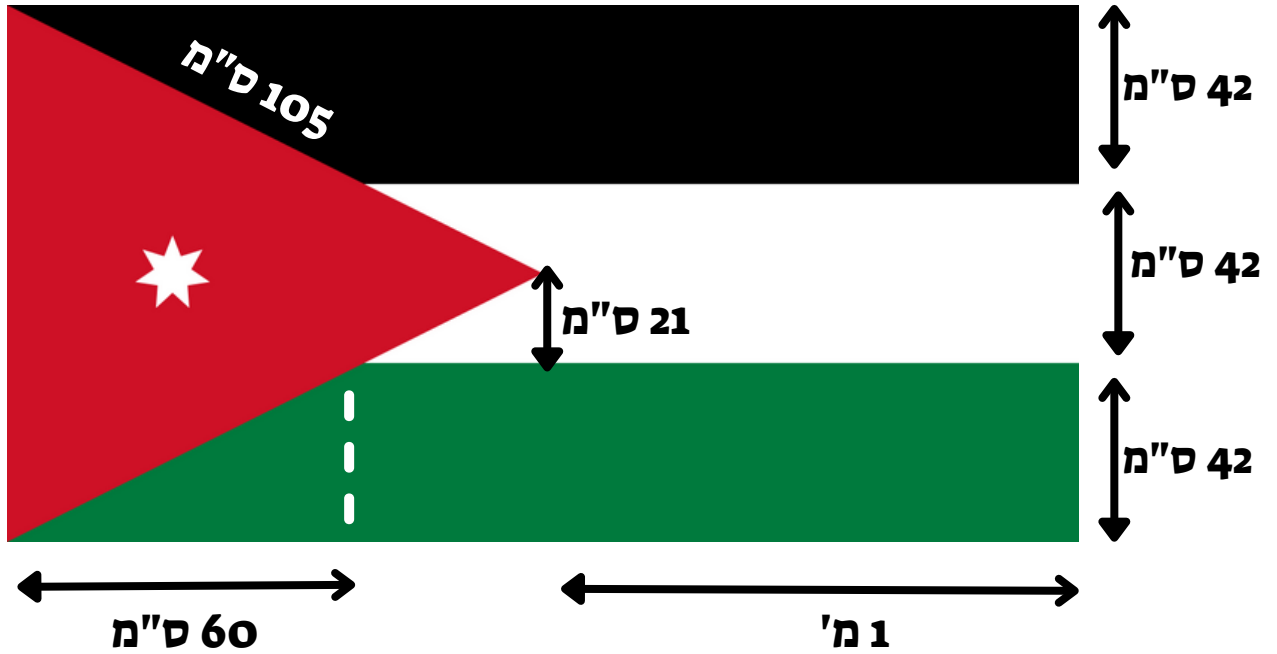
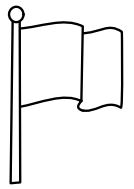


חשבו את כמות הבד שצריך על מנת לתפור את הצורה:  
 הכחולה:  
 הלבנה:  
 האדומה:

חשבו, על פי, האידות בציר את היקף הצורה:  
 האדומה:  
 הלבנה:  
 הכחולה:



# חישוב שטחים והיקפים



- \_\_\_\_\_ : שם האדינה:
- \_\_\_\_\_ : עיר בירה:
- \_\_\_\_\_ : מטבע:
- \_\_\_\_\_ : שפה מדוברת:
- \_\_\_\_\_ : באיזו יבשת היא נמצאת:
- \_\_\_\_\_ : נוסדה:

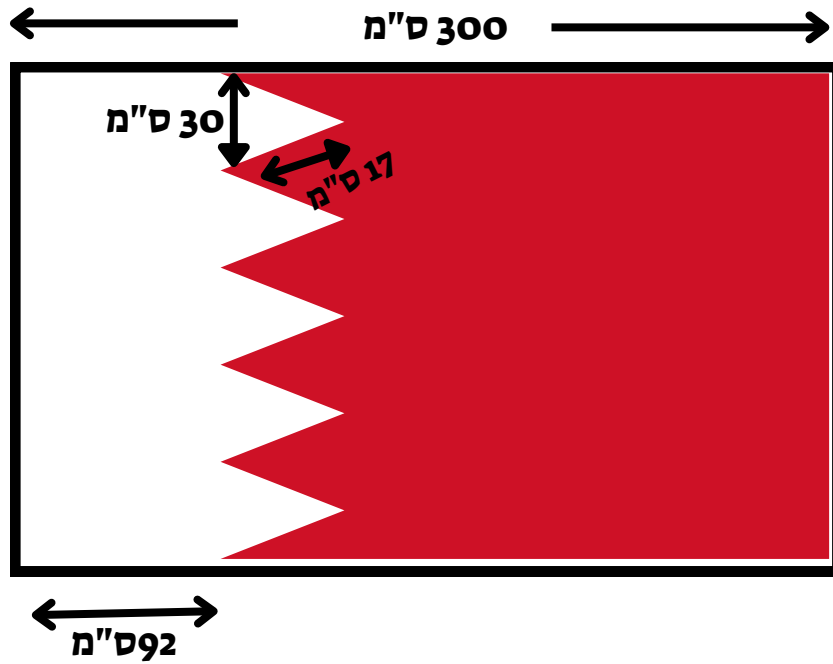
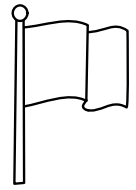


חשבו את כמות הבד שצריך על מנת לתפור את הצורה:  
 השחורה: \_\_\_\_\_  
 האדומה: \_\_\_\_\_  
 הלבנה: \_\_\_\_\_  
 הירוקה: \_\_\_\_\_



חשבו, על פי האידות בצירוף את היקף הצורה:  
 השחורה: \_\_\_\_\_  
 הלבנה: \_\_\_\_\_  
 הירוקה: \_\_\_\_\_  
 האדומה: \_\_\_\_\_

# חישוב שטחים והיקפים



- \_\_\_\_\_ שם האדינה:
- \_\_\_\_\_ עיר בירה:
- \_\_\_\_\_ מטבע:
- \_\_\_\_\_ שפה מדוברת:
- \_\_\_\_\_ באיזו יבשת היא נמצאת:
- \_\_\_\_\_ נוסדה:



חשבו את כמות הדג שצריך על מנת לתפור את הצורה:  
העבנה:

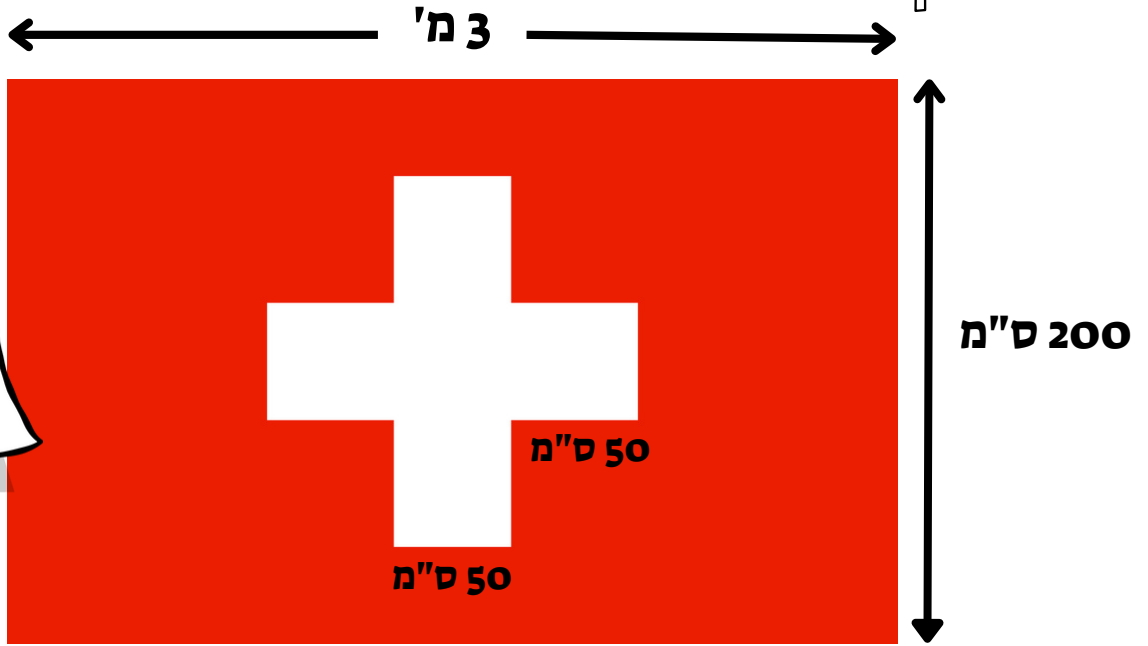
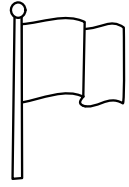
האדומה:

חשבו , על פי, האידות בציר את היקף הצורה:  
העבנה:

האדומה:



# חישוב שטחים והיקפים



שואלך  
למידות מידה



- \_\_\_\_\_ שם האדינה:
- \_\_\_\_\_ עיר בירה:
- \_\_\_\_\_ מטה:
- \_\_\_\_\_ שפה מדוברת:
- \_\_\_\_\_ באיזו יבשת היא נמצאת:
- \_\_\_\_\_ נוסדה:

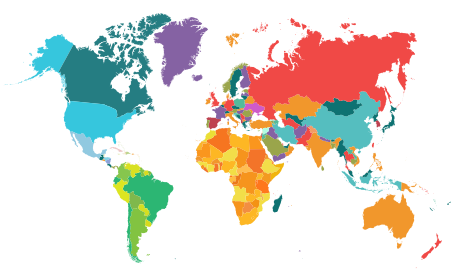


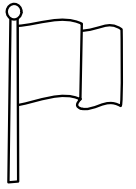
חשבו את כמות הדג שצריך על מנת לתפור את הצורה:  
הלבנה:

האדומה:

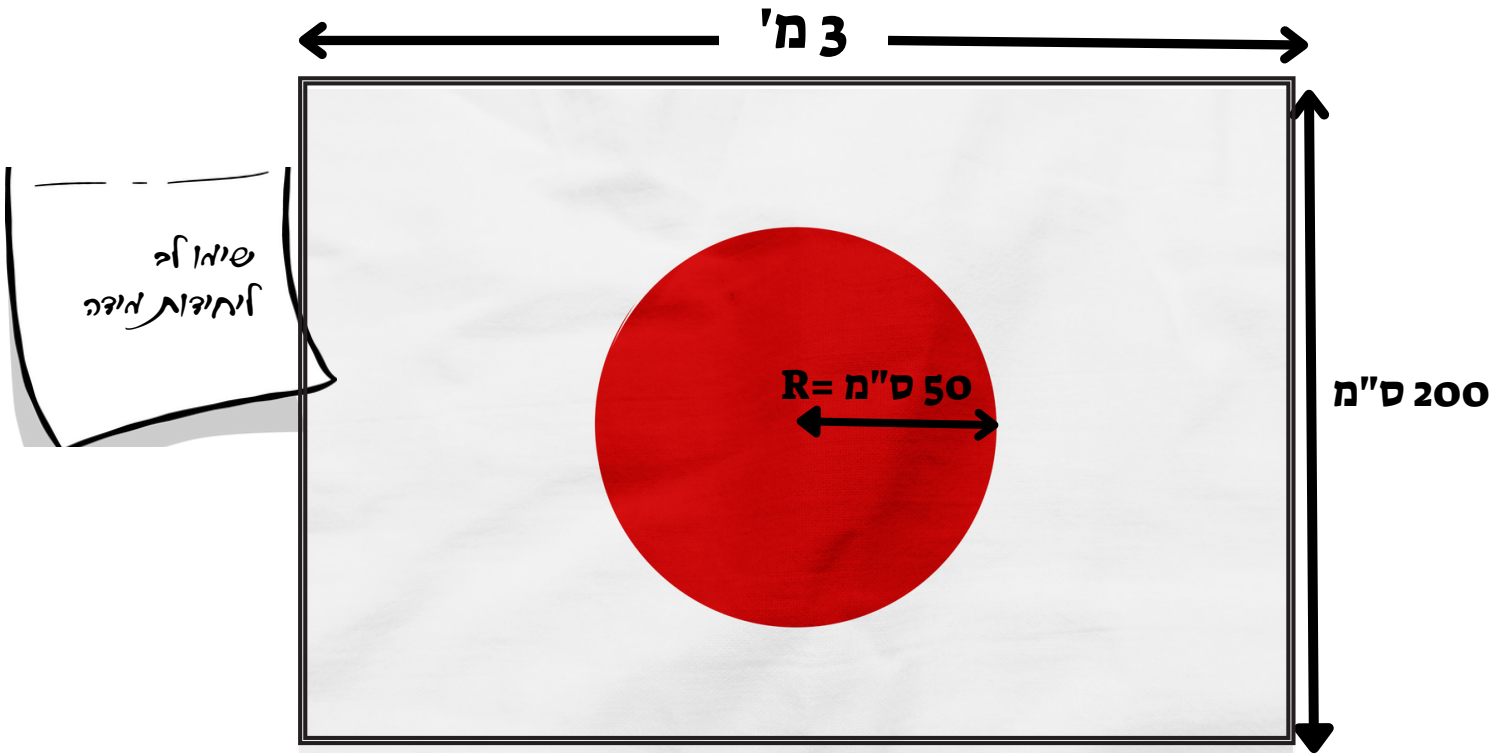
חשבו, על פי האידות בציר את היקף הצורה:  
הלבנה:

האדומה:






# חישוב שטחים והיקפים



## עובדות על האדינה

- שם האדינה: \_\_\_\_\_
- עיר הירה: \_\_\_\_\_
- מטבע: \_\_\_\_\_
- שפה מדוברת: \_\_\_\_\_
- באיזו יבשת היא נמצאת: \_\_\_\_\_
- נוסדה: \_\_\_\_\_



חשבו את כמות ההד שצריך על אנת לתפור את הצורה:  
העבנה:

האדומה:

חשבו, על פי, האידות בציר את היקף הצורה:  
העבנה:

האדומה:

