

פונקציה קווית – חיתוך עם הצירים

שאלה 1

נתון הישר: $y=2x+6$

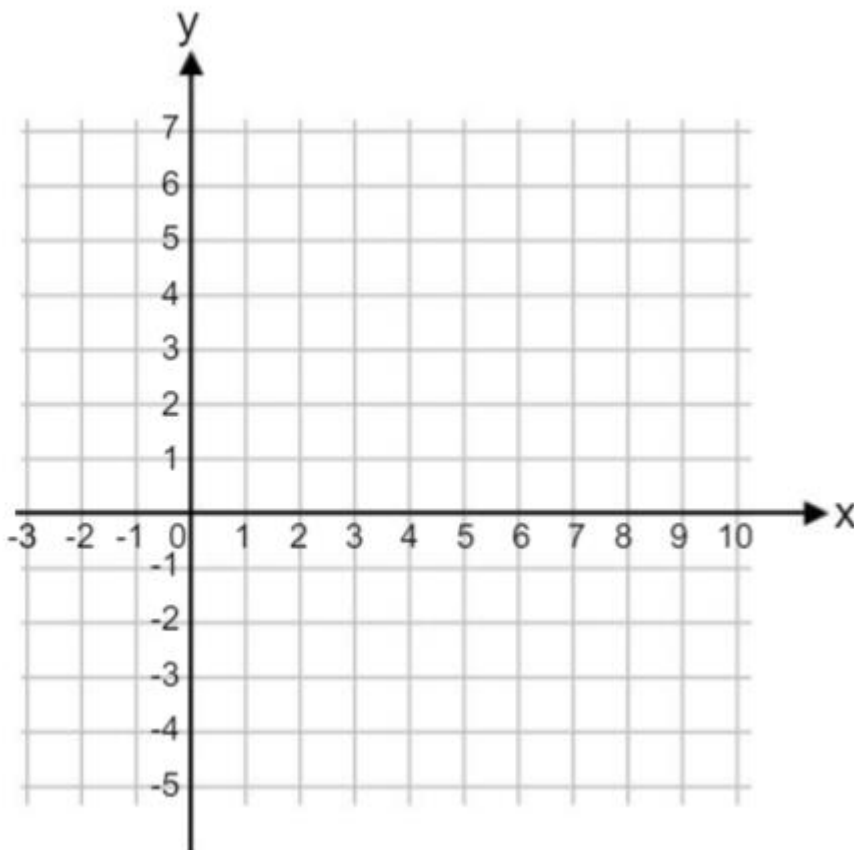
השלם: $m=$ ___

$b=$ ___

הגרף עולה/ יורד

נקודת החיתוך עם ציר y :

נקודת החיתוך עם ציר X :



שאלה 2

נתון הישר: $y=7-2x$

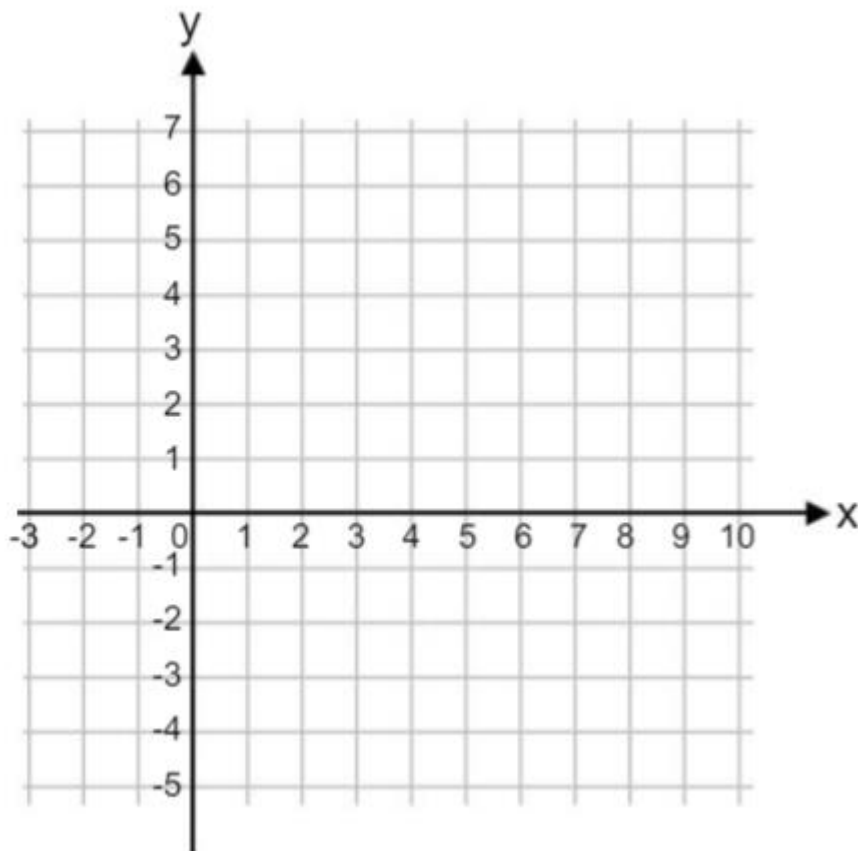
השלים: $m=$ ___

$b=$ ___

הגרף עולה/ יורד

נקודת החיתוך עם ציר y :

נקודת החיתוך עם ציר X :



שאלה 3

נתון הישר: $y=x+2$

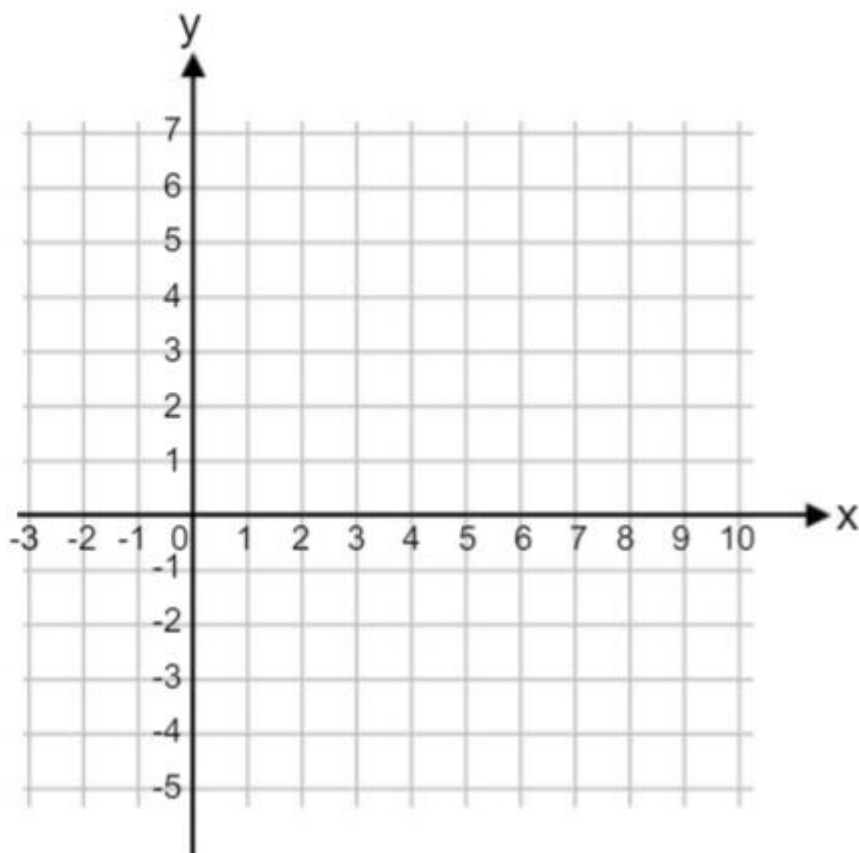
השלים: $m=$ ___

$b=$ ___

הגרף עולה/ יורד

נקודת החיתוך עם ציר y :

נקודת החיתוך עם ציר X :



שאלה 4

נתון הישר: $y=4-2x$

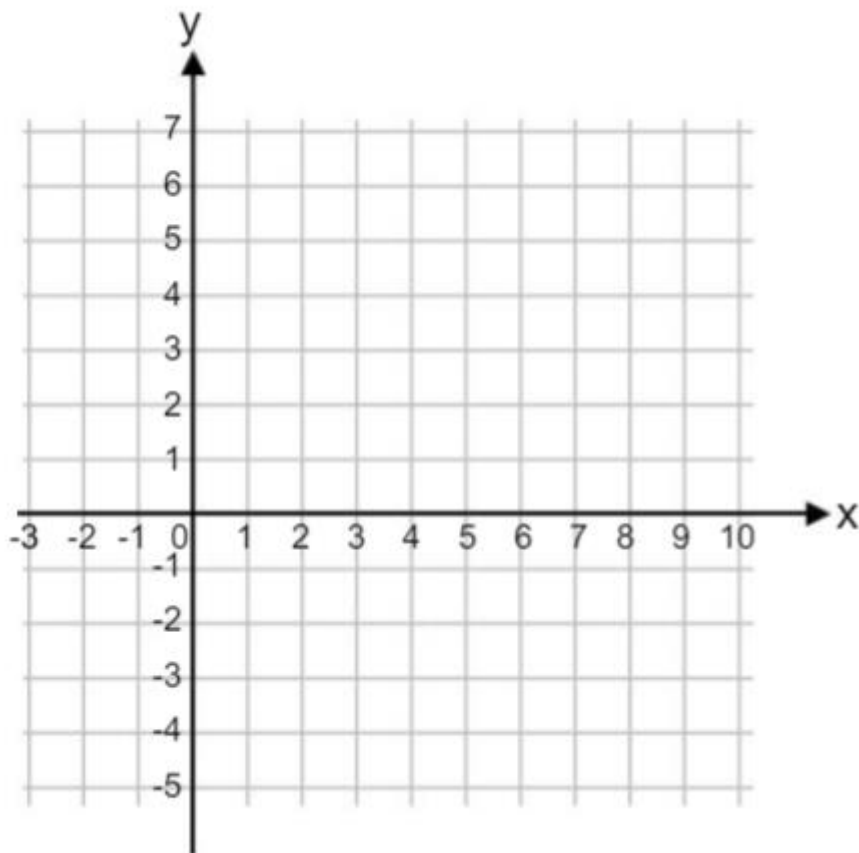
השלים: $m=$ ___

$b=$ ___

הגרף עולה/ יורד

נקודת החיתוך עם ציר y :

נקודת החיתוך עם ציר x :



שאלה 5

נתון הישר: $y=2x+6$

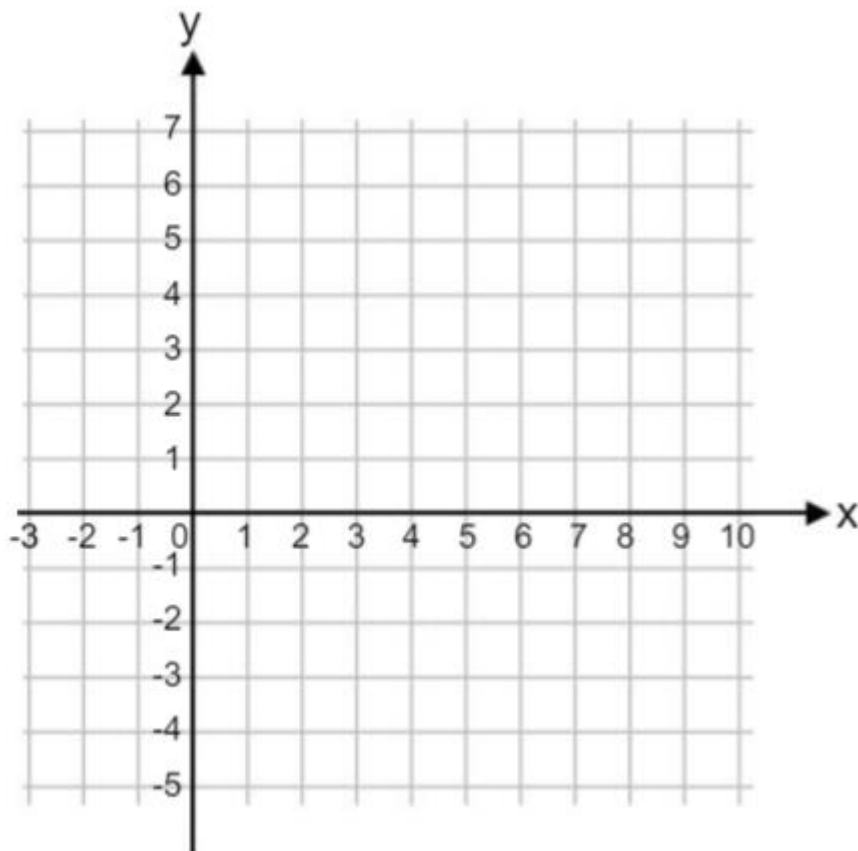
השלם: $m=$ ___

$b=$ ___

הגרף עולה/ יורד

נקודת החיתוך עם ציר y :

נקודת החיתוך עם ציר X :



שאלה 6

נתון הישר: $y=3+3x$

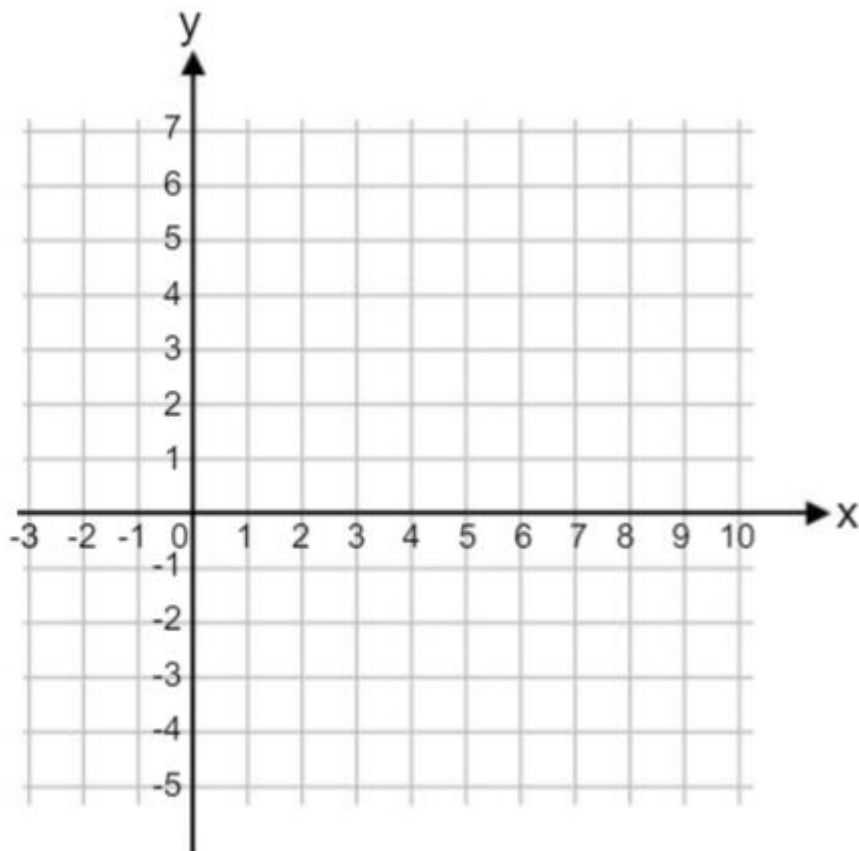
השלים: $m=$ ___

$b=$ ___

הגרף עולה/ יורד

נקודת החיתוך עם ציר y :

נקודת החיתוך עם ציר X :



שאלה 7

נתון הישר: $y = -x + 2$

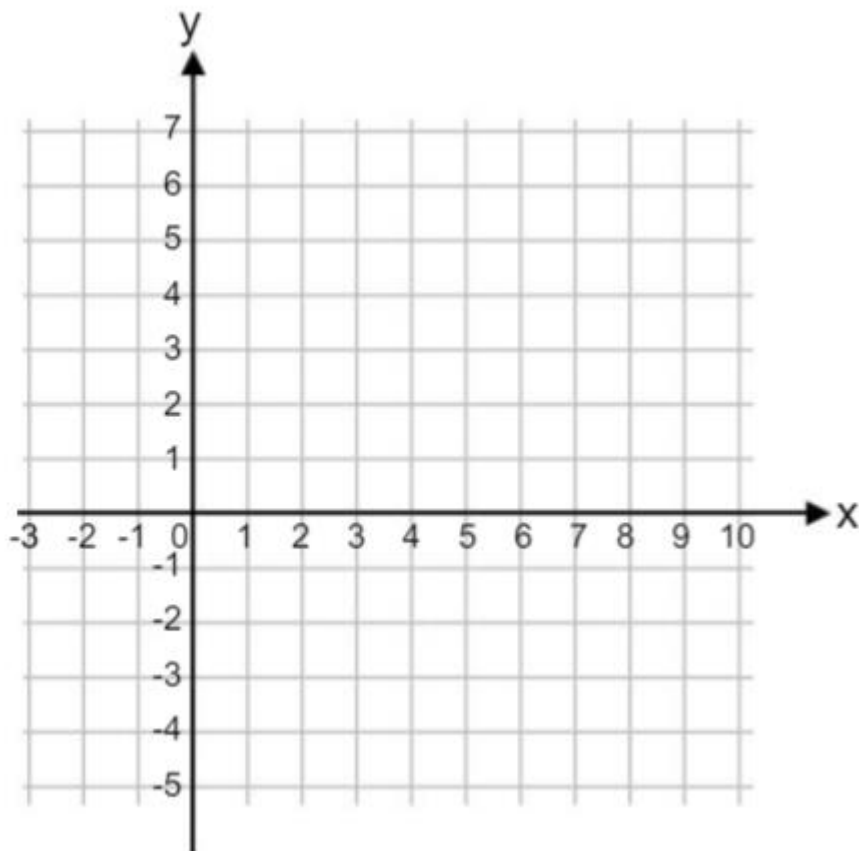
השלם: $m = \underline{\hspace{2cm}}$

$b = \underline{\hspace{2cm}}$

הגרף עולה/ יורד

נקודת החיתוך עם ציר y :

נקודת החיתוך עם ציר x :



שאלה 8

נתון הישר: $y=7-7x$

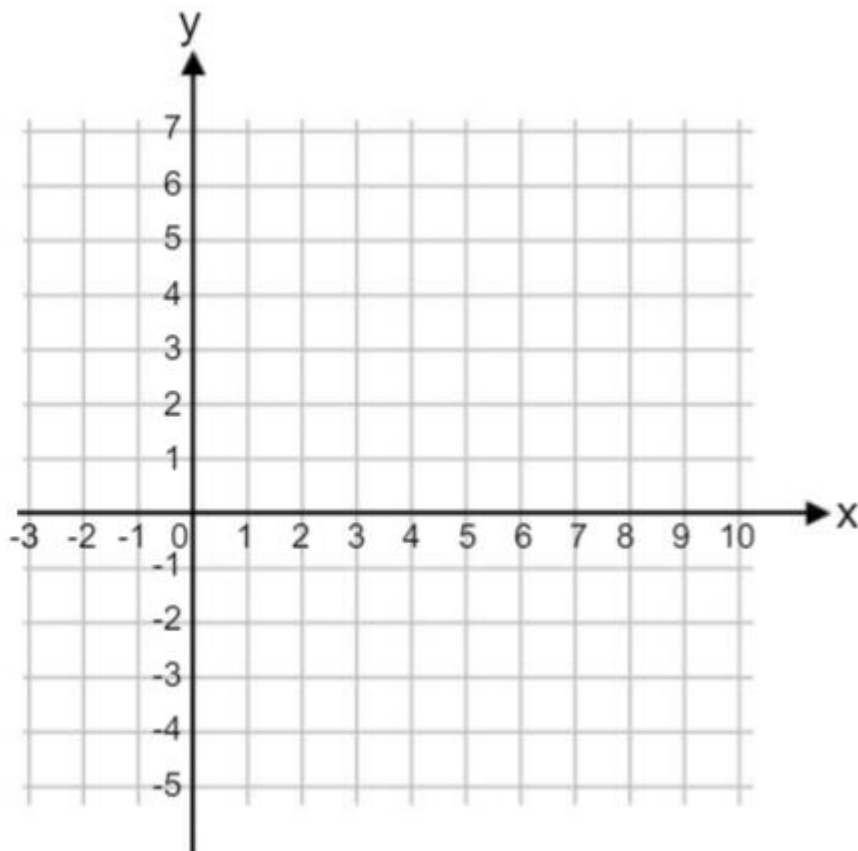
השלים: $m=$ ___

$b=$ ___

הגרף עולה/ יורד

נקודת החיתוך עם ציר y :

נקודת החיתוך עם ציר X :



שאלה 9

נתון הישר: $y=x+1$

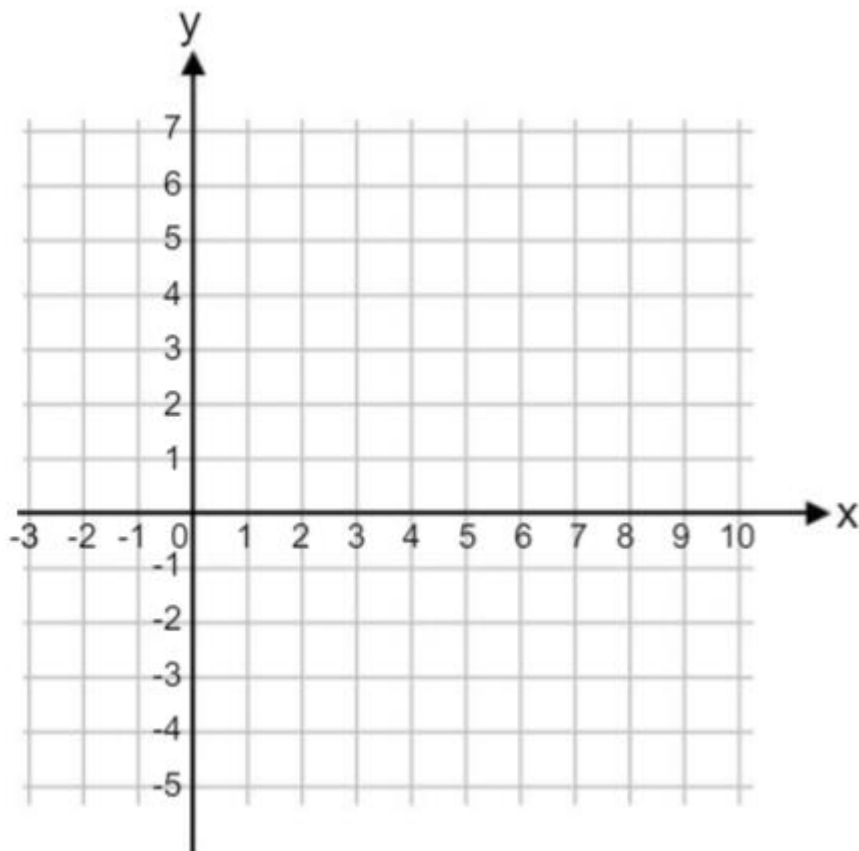
השלם: $m=$ ___

$b=$ ___

הגרף עולה/ יורד

נקודת החיתוך עם ציר y :

נקודת החיתוך עם ציר X :



שאלה 10

נתון הישר: $y=6-x$

השלים: $m=$ ___

$b=$ ___

הגרף עולה/ יורד

נקודת החיתוך עם ציר y :

נקודת החיתוך עם ציר X :

